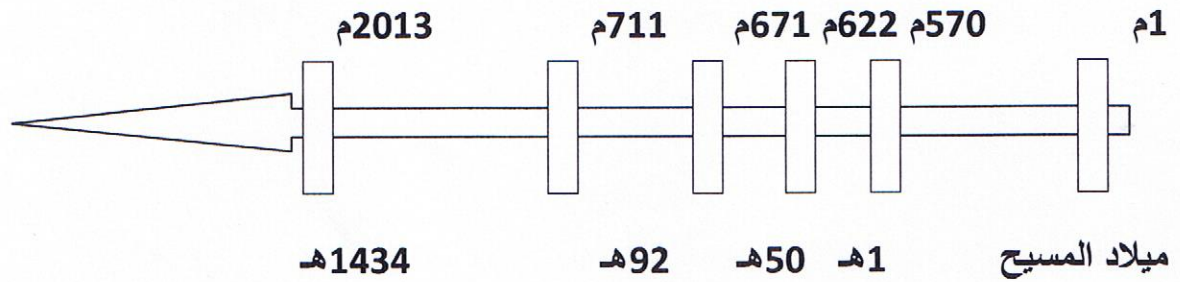


الوضعية 1 : أتأمل السلم الزمني الآتي :



04

مع1

| | | |
|--|--|--|
| | | |
|--|--|--|

التعليلة :

أعين كل حدث من الأحداث التالية في المكان المناسب من السلم: انتشار الإسلام بالأندلس – ولادة الرسول محمد – تأسيس القيروان.

الوضعية 2: أقرأ الجمل التالية :

06

- 1- أول سورة نزلت من القرآن هي سورة العلق
- 2- لقي الرسول محمد معارضة شديدة من سكان مكة و قاوموه بشدة.
- 3- دعا الإسلام إلى الأناية و التفاخر بين الناس
- 4- كان سكان الجزيرة العربية قبل مجيء الإسلام يعبدون الأصنام.
- 5- ساعد أهل مكة الرسول على نشر الإسلام.
- 6- نظم الإسلام العلاقات بين المسلمين و وحد العرب

التعليلة :

أعمر الجدول الآتي بوضع رقم كل إفادة في الواد المناسب :

مع2

| | | |
|--|--|--|
| | | |
|--|--|--|

| إفادات خاطئة | إفادات صحيحة |
|--------------|--------------|
| | |

الوضعية 3 : أقرأ الجدول التالي:

04

| أهم إنجازاتها | الشخصية |
|--|---------|
| أسس مدينة القيروان | |
| قادت المقاومة البربرية ضد حسان ابن النعمان | |
| نشر الإسلام بالأندلس | |
| أسس مدينة المهدية سنة 303 هـ | |

مع3

| | | |
|--|--|--|
| | | |
|--|--|--|

التعليلة : أأكمل تعبير الجدول بذكر الشخصية المناسبة.

06

الوضعية 4 : اربط كل معلم بالمدينة التي يوجد بها:

مع2ب

| | | |
|--|--|--|
| | | |
|--|--|--|

- | | | |
|------------------|------------|-----------------------|
| ● بيت الحكمة | ● القيروان | ● فسقية الأغالبة |
| ● جامع القصبة | ● المهدية | ● جامع الزيتونة |
| ● السقيفة الكلاء | ● تونس | ● جامع عبدالله المهدي |

التمرين 1:

بمناسبة الحفل المدرسي فكر مدير المدرسة في شراء 65 قصة لتكريم النجباء من التلاميذ فوصله العرض التالي.

| المبلغ الجملي المطلوب | ثمن القصة الواحدة بالدينار | العدد | المعلوم |
|-----------------------|----------------------------|-------|---------|
| 40.625 د | | | العرض 1 |
| 27.950 د | | | العرض 2 |
| 37.310 د | | | العرض 3 |

التعليمة: اءول بتحديد القصة الواحدة لكل عرض.

2. مء

| | | |
|--|--|--|
| | | |
|--|--|--|

التمرين 2:

نظر في تكاليف الحفل فقررُوا أن يدفع كل واحد 8.4 د لتغطيته، مع العلم أنه وقع إعفاء 7 أولياء من المساهمة.

التعليمة: 2: ما هو المبلغ المجمع من طرف الأولياء بالدينار:

1. مء

| |
|--|
| |
|--|

2. مء

| |
|--|
| |
|--|

التمرين 3: وقع اختيار المدير على العرض الثاني لمدحة الكتي تخفيضا جلياً لثمنه 4750 مي

التعليمة 3: ما هو ثمن شراء القصص:

1. مء

| |
|--|
| |
|--|


التمرين 4: جلس المدعوون إلى طاولات تختلف من حيث الشكل .


• الطاولة الأولى شكلها رباعي احدى زواياه قيسها 60°

التعليمة 4: أتم رسم هذه الزاوية و التي رأسها "أ" ثم أبنى عليها مثلثا متقايس الأضلاع قيس ضلعه 3 صم

4. مء

| | | |
|--|--|--|
| | | |
|--|--|--|





4. مع | التعليمة 5: أرسم محاور التناظر في هذا الشكل

4. مع

التمرين 5: دام الحفل 2س و 35دق إذا علمت أنه انتهى على الساعة 18 و 25دق

6: التعليمة: ما هو وقت انطلاق الحفل؟

3. مع

2. مع

التمرين 6: أثناء الحفل غنى طفلان عدة أغاني :

| المشترك | عدد الأغاني | عدد الأغاني | الوقت المحض لكل أغنية | الوقت الجملي |
|---------|-------------|-------------|-----------------------|--------------|
| الأول | 5 | 1دق و 15ث | | |
| الثاني | 4 | 1دق و 25ث | | |

6: التعليمة: أتمّ تعميم الجدول .

2. مع

3. مع

ج جدول المعايير

| مع4 | مع3 | مع2 | مع1 | |
|-----|-----|-----|-----|-----|
| 0 | 0 | 0 | 0 | - |
| 2 | 2 | 2 | 2 | + |
| 3 | 3 | 3 | 3 | ++ |
| 5 | 5 | 5 | 5 | +++ |